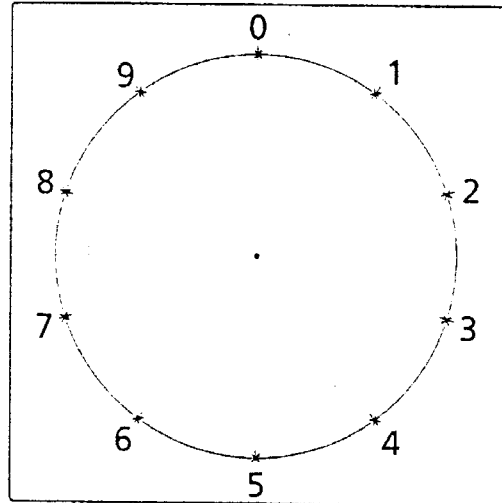


Name: _____

Spanne und zeichne die Einmaleins-Reihen!

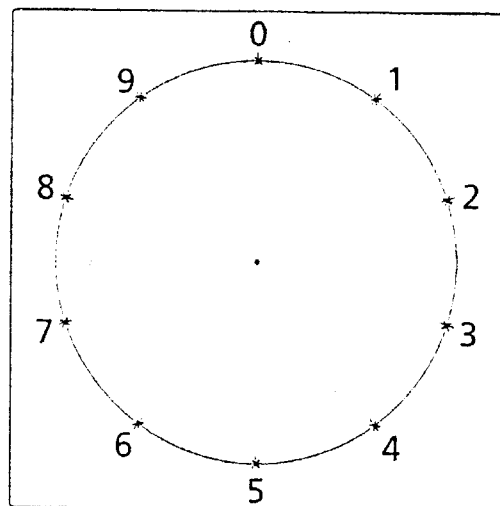
4er-Reihe:

- 1 • 4 = _____
- 2 • 4 = _____
- 3 • 4 = _____
- 4 • 4 = _____
- 5 • 4 = _____
- 6 • 4 = _____
- 7 • 4 = _____
- 8 • 4 = _____
- 9 • 4 = _____
- 10 • 4 = _____



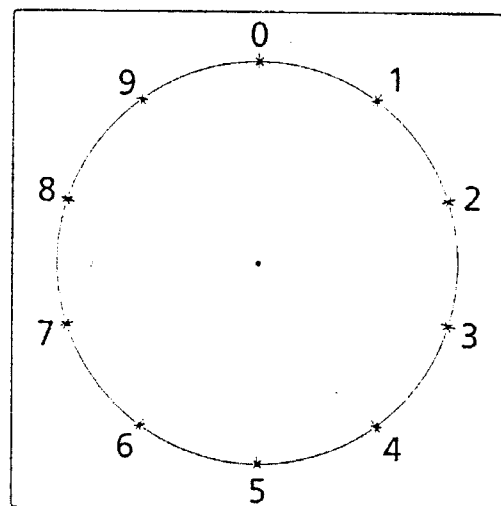
3er-Reihe:

- 1 • 3 = _____
- 2 • 3 = _____
- 3 • 3 = _____
- 4 • 3 = _____
- 5 • 3 = _____
- 6 • 3 = _____
- 7 • 3 = _____
- 8 • 3 = _____
- 9 • 3 = _____
- 10 • 3 = _____



6er-Reihe:

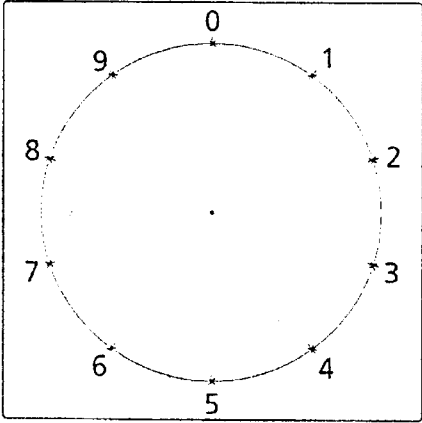
- 1 • 6 = _____
- 2 • 6 = _____
- 3 • 6 = _____
- 4 • 6 = _____
- 5 • 6 = _____
- 6 • 6 = _____
- 7 • 6 = _____
- 8 • 6 = _____
- 9 • 6 = _____
- 10 • 6 = _____



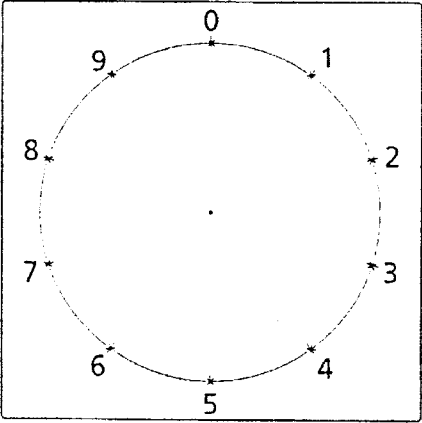
Name: _____

Spanne und zeichne weitere Einmaleins-Reihen!

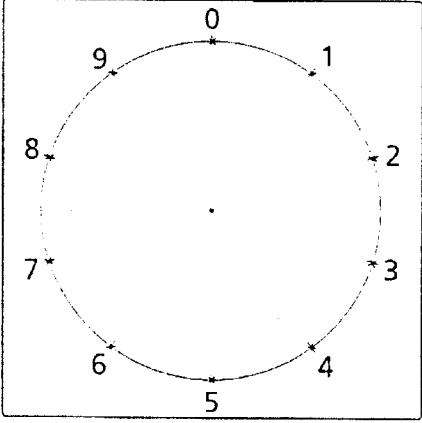
_____er Reihe



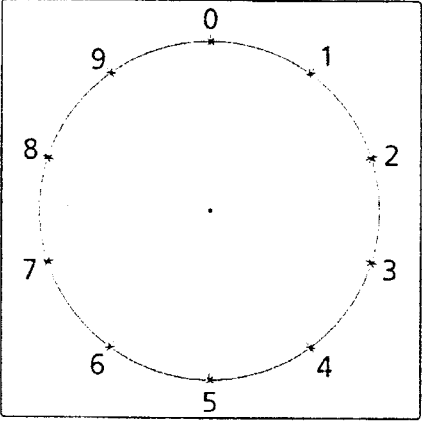
_____er Reihe



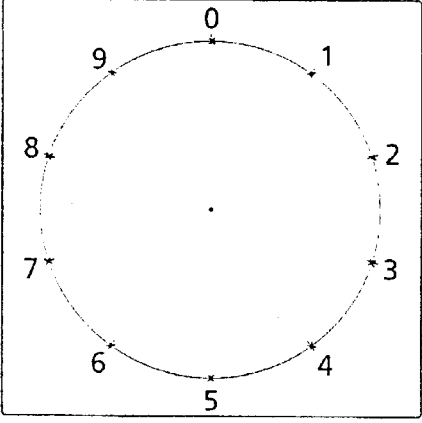
_____er Reihe



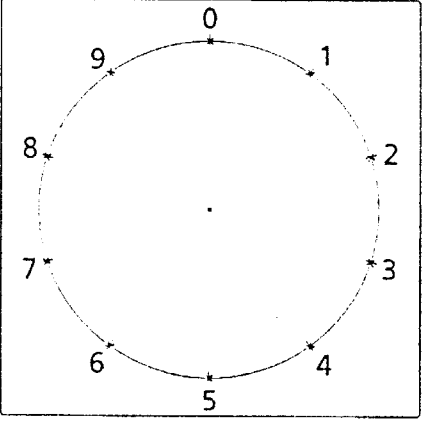
_____er Reihe



_____er Reihe



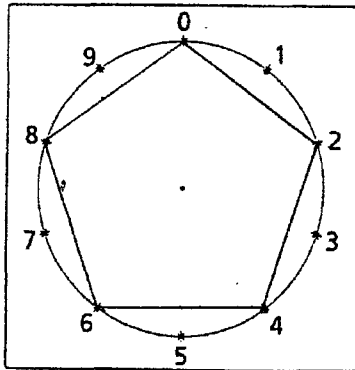
_____er Reihe



Name: _____

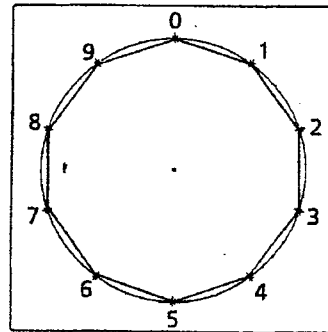
Name: _____

Muster 1:



____er Reihe
oder:
____er Reihe

Muster 2:



____er Reihe
oder:
____er Reihe

1. Wie oft müsst Ihr den Faden von Schraube zu Schraube spannen?

Muster 1: _____

Muster 2: _____

2. Wie viele Striche müsst Ihr zeichnen, damit das Muster vollständig erscheint?

Muster 1: _____

Muster 2: _____

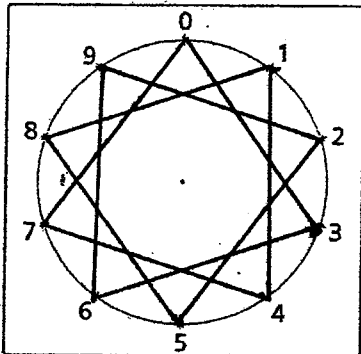
3. Was fällt Euch auf?

Versucht eine Erklärung zu finden!

Name: _____

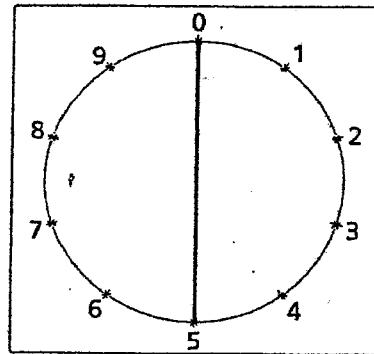
Name: _____

Muster 1:



____er Reihe
oder:
____er Reihe

Muster 2:



____er Reihe

1. Wie oft müsst Ihr den Faden von Schraube zu Schraube spannen?

Muster 1: _____

Muster 2: _____

2. Wie viele Striche müsst Ihr zeichnen, damit das Muster vollständig erscheint?

Muster 1: _____

Muster 2: _____

3. Was fällt Euch auf?

Versucht eine Erklärung zu finden!
